

PROVA DE CONHECIMENTOS  
ESPECÍFICOS

## MAGISTÉRIO GEOGRAFIA

31. Os mapas e as cartas são o resultado visível da representação do espaço geográfico pela Cartografia. Nesse sentido, é correto afirmar que:

- (A) o mapa é a representação no plano, normalmente em escala pequena, de um aspecto de uma área, seja ele geográfico, natural ou cultural.
- (B) a representação, no plano em uma escala pequena ou média dos aspectos naturais ou geográficos de uma área, subdividida em folhas, dá-se o nome de carta.
- (C) os mapas temáticos representam, com alto nível de precisão e detalhamento, apenas os aspectos naturais como o relevo, a vegetação e a hidrografia.
- (D) o cartograma é um tipo especial de mapa temático que representa as superfícies dos países em áreas desproporcionais, evidenciando os aspectos a serem representados.
- (E) a diferença entre o mapa e a carta está na escala empregada em cada um. Pois, a carta é feita em escala pequena, mais detalhada, e os mapas são feitos em grandes escalas, representando grandes áreas.

32. Sobre as competências e habilidades específicas para serem desenvolvidas no âmbito da disciplina Geografia para o Ensino Médio, associe a segunda coluna de acordo com a primeira e, em seguida, escolha a alternativa que apresenta a sequência correta.

- 1. Representação e ( ) Reconhecer na aparência das formas visíveis e concretas do espaço a sua essência, ou seja, os processos históricos.
  - 2. Investigação e ( ) Ler, analisar e interpretar os códigos específicos da Geografia.
  - 3. Contextualização sociocultural ( ) Identificar, analisar e avaliar o impacto das transformações naturais, econômicas e políticas no seu lugar mundo.
  - ( ) Analisar e comparar, interdisciplinarmente, as relações entre preservação e degradação da vida no planeta.
  - ( ) Compreender e aplicar no cotidiano os conceitos básicos da Geografia.
- (A) 3-1-3-2-3
  - (B) 3-1-2-3-3
  - (C) 1-3-2-2-1
  - (D) 2-1-3-2-3
  - (E) 3-2-1-2-3

Considere a imagem abaixo para responder ao item 34.



Fonte: [http://img.sapo.pt/superesportes.com.br/app/noticia/12711695179\\_82014051755232201405171859281001130.jpg](http://img.sapo.pt/superesportes.com.br/app/noticia/12711695179_82014051755232201405171859281001130.jpg) Acesso em: 30/06/2014

Utilize o trecho abaixo para responder ao item 33.

Considere-se como recurso natural todo e qualquer componente da natureza que o homem pode usar em seu benefício.

Conti; Furlan, In: Ross, Jurandyr L. Sanches. *Geografia do Brasil*. São Paulo: Edusp, 2001, p.87

33. A partir da assertiva acima e dos seus conhecimentos sobre a importância do clima para as diferentes sociedades, analise as afirmativas abaixo, colocando entre parênteses a letra V, quando se tratar de afirmativa verdadeira, ou a letra F, quando se tratar de afirmativa falsa, e, em seguida, marque a opção que contém a sequência correta.

- ( ) O clima, entendido como manifestação habitual da atmosfera num determinado ponto, foi considerado pela ONU (Organização das Nações Unidas) como matéria de interesse da humanidade, por ser um dos principais recursos naturais à disposição do homem.
- ( ) A geração de energia hidrelétrica depende fundamentalmente do fluxo hídrico e este, por sua vez, depende do comportamento das variações do clima de um local.
- ( ) A distribuição mundial dos cinturões agrícolas, e suas respectivas especializações produtivas, assemelha-se muito às das faixas climáticas.
- ( ) Nos grandes aglomerados urbanos o processo de absorção, difusão e reflexão da energia solar, juntamente com a concentração de poluentes perturbam os mecanismos atmosféricos e criam o clima urbano.

- (A) V - F - F - V  
(B) F - V - V - V  
(C) V - V - F - F  
(D) V - F - V - V  
(E) F - F - F - V

34. Tal como nas edições anteriores, em 2006 e 2010, a Copa de 2014, realizada desta vez no Brasil, apresentou seleções europeias multirraciais e multiculturais, sendo compostas por alguns jogadores naturalizados ou filhos de imigrantes, tal como na imagem acima da Seleção da França na qual existem jogadores de origem angolana, argelina e senegalesa. Sobre a presença de jogadores de origem estrangeira nas diversas seleções no mundial de 2014, seus conhecimentos sobre movimentos migratórios da população mundial permitem afirmar que:

- (A) a França, tal como pode ser verificado na imagem, é um país que estimula a imigração, desde que seja de pessoas oriundas de suas ex-colônias como citado.
- (B) os países europeus tomam-se o destino preferencial para a maioria dos imigrantes de países que foram suas ex-colônias em razão da ausência de burocracia para estes.
- (C) a única forma de um imigrante ter acesso à cidadania europeia é ser filho de europeu, como no caso dos jogadores franceses.
- (D) a globalização ampliou a mobilidade do capital e do trabalho em escala planetária, flexibilizando o controle das fronteiras segundo os interesses da economia.
- (E) a presença de imigrantes e seus descendentes no espaço europeu deve-se às políticas demográficas de recomposição da PEA, face o envelhecimento populacional e a crise econômica.


35. A agricultura de precisão é:

- (A) a base do processo de mudanças técnicas na produção agropecuária que ficou conhecida como Revolução Verde.
- (B) característica da especialização produtiva presente nos sistemas agrícolas asiáticos, intensivo em trabalho.
- (C) produto do meio técnico-científico-informacional, caracterizada pelo uso de alta tecnologia na produção agrícola, como as sementes geneticamente modificada.
- (D) a dependente do sistema financeiro e voltada exclusivamente aos mercados externos, quando os preços estão em alta nas agências internacionais.
- (E) a que apresenta maior produtividade, baseando-se na alternância entre o uso de sistemas extensivos e intensivos de acordo com as demandas do mercado.

36. A partir da década de 1990 e início do século XXI, o padrão de mobilidade da população brasileira no território nacional passou a apresentar padrões diferentes dos verificados até então. Nesse sentido, é correto afirmar que:

- (A) no Nordeste brasileiro verificou-se uma intensa migração de retorno, particularmente para as áreas onde se instalaram cinturões de agricultura de precisão, fazendo da região a de maior número de migrantes no país.
- (B) as cidades médias tornaram-se o principal destino para migração interna, dado o dinamismo econômico e a oferta de bons serviços e melhor qualidade de vida, comparados com as metrópoles.
- (C) mesmo com as mudanças nos efetivos demográficos e na orientação geográfica, as migrações campo-cidade ainda caracterizam a mobilidade no território brasileiro, particularmente na região Centro-Oeste.
- (D) com a corrente diminuição da migração intrarregionais, verificado particularmente na década de 1980, aumentou o movimento em direção ao Sudeste, mas fora do eixo Rio-São Paulo em razão da descentralização industrial.
- (E) as regiões Norte e Centro-Oeste, por se constituírem fronteiras dinâmicas ao capital, têm recebido consideráveis fluxos migratórios de mão de obra qualificada para os novos pólos industriais que modificaram o perfil econômico dessas regiões.

Considere a imagem abaixo para responder ao item 37.



Fonte: ROSS, Jurandyr Luciano Sanches (org). Geografia do Brasil, 4.ª ed. São Paulo: Edusp, 2001. SANTOS, M. e SILVEIRA, M. L. O Brasil: território e sociedade no início do século XXI. 2ª Ed., Rio de Janeiro: Record, 2001, p. 179.

37. O domínio morfoclimático e fitogeográfico brasileiro apresentado na imagem acima está dividido de 1 a 5, respectivamente, em:

- (A) Campo limpo; Campo sujo; Campo Cerrado; Cerradão.
- (B) Cerradão; Campo limpo; Campo Cerrado; Cerrado.
- (C) Várzea; Igapó; Igarapé; Mata de várzea; Mata de terra firme.
- (D) Caatinga; Caatinga seca; Caatinga seca não-arbórea; Caatinga arbustiva densa; Caatinga do Chapadão.
- (E) Caatinga seca; Caatinga arbustiva densa; Caatinga seca não-arbórea; Caatinga do Chapadão; Caatinga.

Utilize o texto abaixo para responder ao item 38.

Em sintonia com as recentes mudanças no cenário nacional e internacional, em que o Estado deixa de ser o provedor absoluto de bens e serviços públicos e responsável único pela promoção do desenvolvimento econômico e social, e passa a adotar estratégias de descentralização, novos atores e arranjos institucionais começam a participar do processo de desenho e implementação de políticas públicas.

Além disso, a Constituição Federal de 1988 avançou no sentido da descentralização e participação da sociedade civil e, ao tratar da regionalização, permitiu a articulação da União sobre complexos geoeconômicos e sociais, com vistas ao desenvolvimento regional e à redução das desigualdades.

Nesse contexto, foram [1.] com objetivo articular e harmonizar as ações administrativas da União, dos Estados e dos Municípios para a promoção de projetos que visem à dinamização econômica de territórios de baixo desenvolvimento e assim, acabam conseguindo prioridade no recebimento de recursos públicos destinados à promoção de iniciativas e investimentos que reduzam as desigualdades sociais e estejam de acordo com o interesse local consensuado entre os entes participantes; [...].

Fonte: adaptado de <http://www.integracao.gov.br/web/guest/regioes\_integradas\_rides> acesso em 05/07/2014

38. Sobre a hierarquia, influência e organização administrativa dos centros urbanos no Brasil, seus conhecimentos permitem afirmar que, no texto acima a lacuna 1 se refere

- (A) à ampliação das Regiões Metropolitanas, criadas pela Lei Complementar nº 14 de 1973, formada por municípios contíguos e integrados socioeconomicamente.
- (B) à formação de microrregiões urbanas intra-estaduais voltadas para administração pública e fins estatísticos.
- (C) às Regiões Integradas de Desenvolvimento, criadas para articular as ações administrativas da União, dos Estados e dos Municípios.
- (D) aos tecnopólos, próprios da Terceira Revolução Industrial, criados para dinamizar a indústria de alta tecnologia no Brasil.
- (E) às aglomerações urbanas, compostas por conurbações maiores que as Regiões Metropolitanas, criadas para regular a área da metrópole de São Paulo.

39. Sobre a relação população e poder, analise as afirmativas a seguir e marque a opção correta.

- I. O recenseamento da população é um saber, portanto um poder, pois a partir deste o Estado pode, entre outras ações, assentar melhor seu sistema de taxação e determinar aqueles que são submetidos ao serviço militar.
- II. O recenseamento é um triunfo e um referencial abstrato das possíveis relações do poder, posto que o "homem estatístico" é a unidade de cálculo de todo poder.
- III. Mais importante do que analisar as relações de força que provocam a mobilidade humana é compreender a natureza daquilo que a determina, como por exemplo: trabalho ou guerra.
- IV. Os homens são triunfos de poder, na qualidade de depositários de força e de informação, esta última necessita de uma língua para ser estocada e transmitida.

- (A) Somente I e II estão corretas.
- (B) Somente II e III estão corretas.
- (C) Somente I, II e III estão corretas.
- (D) Somente I, II e IV estão corretas.
- (E) I, II, III e IV estão corretas.

Considere as imagens a seguir para responder ao item 40.

Imagem 1






Imagem 2



Legenda

40. Preencha as lacunas e assinale a opção correta.

As imagens 1 e 2 apresentam recortes de relevo do território brasileiro no sentido \_\_\_\_\_ e \_\_\_\_\_, respectivamente.

- (A) NO/L e O/SE
- (B) O/L e NO/SE
- (C) NO/SE e O/L
- (D) O/L e NE/SO
- (E) NO/L e NE/SE

41. Sobre os aspectos do espaço natural brasileiro, particularmente quanto ao domínio da Caatinga, é correto afirmar que:

- (A) a Caatinga do chapadão do Moxotó é um tipo de vegetação que ocorre nesse planalto argiloso, ela apresenta muitas cactáceas arbóreas.
- (B) a xeromorfia, característica da vegetação das caatingas, corresponde a um aprofundamento das raízes das plantas para alcançar água nas camadas mais profundas do solo.
- (C) as caatingas representam um mosaico de cobertura vegetal que formam uma diagonal que separa as duas florestas tropicais do Brasil: a atlântica a noroeste e a amazônica a leste.
- (D) a caatinga arbustiva apresenta formações que se aproximam da vegetação de campos, onde as árvores são raras e as cactáceas e euforbiáceas são as espécies mais representativas.
- (E) a pobreza da população humana no domínio da caatinga é acentuada pelas adversidades inerentes às suas formações vegetais, pois esse domínio possui poucas espécies frutíferas.

42. Sobre Região Concentrada do Brasil, é correto afirmar que:

- (A) trata-se de uma divisão regional, adotada pelo IBGE a partir dos anos de 1990, que leva em consideração os diferentes níveis de desenvolvimento no território nacional.
- (B) refere-se à identificação dos diferentes níveis de densidade técnicas dispersas no território brasileiro, onde os chamados espaços luminosos coexistem com os opacos na forma de arquipélagos.
- (C) baseia-se no conceito de região homogênea, adotado desde a promulgação da Constituição Federal de 1988, onde os espaços são aglutinados segundo os tipos de meio que nele predominam.
- (D) reporta-se à noção de zoneamento espacial para fins específicos de ação e controle, segundo critérios estatísticos de desempenho econômico das diferentes porções do território brasileiro.
- (E) confere-se essa noção às áreas onde o meio técnico-científico-informacional está mais presente, onde as finanças e as informações se irradiam de maneira desigual no país, concentrando-se nos estados do Sudeste e do Sul do Brasil.

Considere os fragmentos de texto abaixo para responder aos itens 43 e 44.

- I. Fabiano estava de bom humor. Dias antes a enchente havia coberto as marcas postas no fim da *ferra de aluvião*, alcançava as catingueiras, que deviam estar submersas. Certamente só apareciam as folhas, a espuma subia, lambendo ribanceiras que se desmoronavam. Dentro em pouco o despotismo da água ia acabar, mas Fabiano não pensava no futuro. Por enquanto a inundação crescia, matava bicho, ocupava grotas e várzeas. Tudo muito bem. E Fabiano esfregava as mãos. Não havia o perigo da seca imediata, que aterrorizava a família durante meses. [...]
- II. O *mungu* do bebedouro cobria-se de *arrubações*. Mau sinal, provavelmente o sertão ia pegar fogo. Vinham em bandos, arranchavam-se nas árvores da beira do rio, descansavam, bebiam e, como não havia comida, seguiam viagem para o sul. O casal agoniado sonhava desgraça. O sol chupava os poços, e aquelas excomungadas levavam o resto da água, queriam matar o gado.

Ramos, Graciliano. *Vidas Secas*. Rio de Janeiro: Editora Record, 2011, p. 65 e 109

43. Com base em seus conhecimentos sobre o quadro natural brasileiro, assinale a alternativa que apresenta, corretamente, a conceituação das expressões destacadas nos fragmentos I e II, respectivamente.

- (A) Tipo de solo zonal que resulta da decomposição da rocha local; vegetação de folhas perene que possui raízes profundas e que garante a sobrevivência de várias espécies na estação seca; aves características desse ambiente que permanece na região mesmo durante as estiagens.
- (B) Solo intrazonal resultante de formações rochosas conhecidas como *inselbergs*; vegetação rasteira do tipo herbácea sazonal; espécie da fauna silvestre de comportamento migratório.
- (C) Solo azonal produzido pela laterização das rochas locais; espécie arbustiva decídua e de raízes profundas; aves migratórias que ocupam a caatinga durante as estiagens.
- (D) Solo zonal resultante da deposição fluvial após inundações; vegetação xeromórficas, decíduas; aves migratórias características desse ambiente, que fogem da estiagem.
- (E) Solo zonal formado por rochas diferentes e transportado pelos rios, espécie vegetal perenifólia e higrófila; espécie da fauna de comportamento migratório que ocupa a caatinga nas estiagens.

44. Os fragmentos I e II, retirados da obra de 1938, do autor alagoano Graciliano Ramos, retratam a vida num domínio natural presente no território brasileiro. É nesse ambiente que o personagem Fabiano e sua família representam o homem comum, próprio da época da concepção do livro, que tem uma vida marcada pelas condições ambientais.

Seus conhecimentos sobre o quadro natural e a organização do espaço brasileiro permitem afirmar que,

- (A) o assombro pela seca, que aterrorizava a família da trama, era infundado, pois suas condições de vida eram dissociadas da ecologia local.
- (B) para Fabiano e sua esposa, o terror da seca, como prenúncio de desgraças, fundava-se na observação da paisagem e no desconhecimento do seu próprio ambiente, rico em recursos naturais e mal aproveitados pela população local.
- (C) as adversidades enfrentadas por Fabiano e sua família retratam as condições históricas, portanto sociais, desse domínio específico, no qual a seca ganha conotação de flagelo.
- (D) miigar ou não do ambiente em que se encontravam era uma questão de tempo para os personagens da obra em questão, pois se tratava de um ambiente naturalmente *amecunheiro*.
- (E) o flagelo da seca é um fato do domínio em que a trama acontece, seja na época em que foi escrita, seja na atualidade, pelos elevados índices migratórios que ainda apresenta.

Considere o trecho a seguir para responder ao item 45.

*A intervenção das sociedades humanas no espaço, intensificado pela evolução do desenvolvimento tecnológico, vem transformando as paisagens terrestres. Além da ação humana, a natureza também atua modificando as paisagens através de fenômenos como o vulcanismo, o tectonismo, a ação da água dos ventos, entre outros.*

Fonte: ALMEIDA, Lúcia Maria Alves de.; RIGOLIN, Tércio Barbosa. *Varz Geografia*: volume único. Ensino Médio, 1ª ed. São Paulo: Ática, 2013, p.17.

45. Considerando o trecho acima e os seus conhecimentos sobre a Geografia e suas categorias de análise, é correto afirmar que:

- (A) ao resultado da ação conjunta das forças da natureza e da ação humana, dá-se o nome de organização espacial.
- (B) por ser um conjunto de formas resultante da ação humana e das forças da natureza a paisagem pode ser compreendida com sinônimo de espaço geográfico.
- (C) a categoria que explica a dinâmica da relação entre as forças sociais e naturais é a de lugar, pois o resultado da interação destas pode acolher ou afastar as pessoas.
- (D) a região, assim como o espaço geográfico, representa a expressão individualizada da ação antrópica e da natureza, por isso é útil à compreensão da paisagem.
- (E) o tempo, desde que usado em diferentes escalas, é uma categoria que auxilia na compreensão das paisagens seja ela natural ou humana.

46. O início dos anos 2000, a primeira década do século XXI, ficou marcado por uma série de rupturas e mudanças no Sistema Internacional, particularmente no campo geopolítico. Parte dessas mudanças resultou das medidas adotadas após os atentados terroristas de 11 de setembro de 2001 e atingiram as Relações Internacionais.

Sobre essas medidas, é correto afirmar que:

- (A) logo após os eventos de 11 de setembro de 2001 a Geopolítica internacional foi marcada pela diminuição do poder econômico e bélico da Triade do Poder (Estados Unidos, União Européia e Japão), culminando com a extinção da OTAN, já sem sentido num mundo pós Guerra Fria.
- (B) como resposta aos atentados, o governo estadunidense adotou uma série de princípios e métodos para proteger o país de possíveis ameaças à integridade do seu país, entre eles estava o direito do ataque preventivo que ficou conhecido como *Doutrina Bush*.
- (C) o *Ato Patriótico*, aprovado após os ataques terroristas, baseava-se em um pacote de medidas legais que buscavam salvaguardar a segurança dos Estados Unidos, mas garantindo os direitos civis dos seus cidadãos, tais como a inviolabilidade da propriedade privada.
- (D) em razão dos atentados, o Conselho de Segurança da ONU aprovou, por unanimidade, as invasões ao Afeganistão, já em 2001, e ao Iraque, em 2003, a fim de encontrar e desarticular as lideranças terroristas que se abrigavam naqueles países.
- (E) os atentados de 2001 materializaram as teses de "*Choque de Civilizações*" de Samuel Huntington (1927-2008), baseada na impossibilidade de coexistência entre os valores das culturas ocidentais e orientais, e desabilitaram os organismos internacionais na mediação de conflitos.

47. Sobre as megacidades, pode-se dizer que:

- (A) são grandes aglomerações humanas subdivididas em municípios e vilas.
- (B) correspondem a centros urbanos que se organizam a partir de atividades agrícolas.
- (C) são cidades modelo com sustentabilidade ambiental e distribuição equilibrada de renda.
- (D) são nós da economia global concentrando o controle da mídia e a capacidade simbólica de criar e difundir mensagens.
- (E) são áreas que refletem diretamente às dinâmicas do capital e a desconcentração do poder.

48. Com relação às grandes corporações, pode-se dizer que:

- (A) são os mais importantes agentes de reorganização espacial capitalista.
- (B) são grupos econômicos articulados com o equilíbrio ambiental do planeta.
- (C) são empresas brasileiras geridas pelo Estado.
- (D) são agentes com tecnologia e organização corporativa focados no desenvolvimento econômico de países subdesenvolvidos.
- (E) são grandes empresas organizadas e geridas de forma cooperativa pelos próprios trabalhadores.

49. Com relação ao meio ambiente, pode-se dizer que:

- (A) é pouco importante para a sociedade, pois vivemos na era do consumo.
- (B) fornece os recursos naturais de forma contínua e sempre sustentável.
- (C) é o resultado material da ação humana, da natureza transformada pelo trabalho social.
- (D) serve como mercadoria do sistema capitalismo que utiliza seus recursos naturais de forma equilibrada.
- (E) atende às demandas da sociedade que por sua vez utiliza seus recursos naturais com responsabilidade social.



50. Com relação à Geografia, pode-se dizer que:

- (A) cabe analisar o conjunto indissociável de sistemas de objetos e sistemas de ação que formam o espaço.
- (B) tem como prioridade a análise dos processos físicos e químicos do ambiente natural.
- (C) é uma ciência criada recentemente e voltada para atender a formação complementar nas universidades.
- (D) é um conhecimento científico que se baseia nas latitudes, longitudes e na cartografia como elementos essenciais para entender às dinâmicas territoriais.
- (E) tem como foco contribuir para a organização sustentável das regiões e compreensão puramente antropológica da sociedade.

51. São elementos formadores do espaço:

- (A) os homens, as firmas, o meio ecológico, a energia e a governança.
- (B) os homens, as firmas, as instituições, as infraestruturas e o meio ecológico.
- (C) a governança, os conflitos, os agentes imobiliários, as instituições e o meio ecológico.
- (D) os proprietários fundiários, o meio ecológico, as firmas, as infraestruturas e os conflitos.
- (E) o meio ecológico, os homens, a governança, as instituições e a energia.

52. Com relação ao período do meio técnico científico, pode-se dizer que:

- (A) representa um momento histórico fundamentado na técnica e na ausência do trabalho intelectual.
- (B) corresponde ao crescimento de formas tradicionais de produção.
- (C) implica na adoção de métodos repetitivos de produção.
- (D) coincide com o desenvolvimento da ciência das técnicas.
- (E) revela um predomínio puramente da técnica nos processos produtivos.

53. Sobre as rochas sedimentares, pode-se dizer que:

- (A) são consideradas rochas primárias por resultarem diretamente da solidificação do magma.
- (B) são oriundas de alteração por elevadas pressões e temperaturas.
- (C) consolidam-se na parte externa da superfície e passam por um rápido processo de resfriamento.
- (D) ocupam extensas áreas da superfície e são originárias de outras rochas.
- (E) são oriundas das intrusões de massas magmáticas.

54. Com relação ao período do Pós-Segunda Guerra Mundial, pode-se dizer que:

- (A) o Japão se reconstruiu rapidamente com recursos da União Soviética.
- (B) os Estados Unidos se afirma como potência capitalista e há um processo de transformação interna em suas empresas.
- (C) a Alemanha sofre pesadas sanções políticas e econômicas impostas pelo Tratado de Versalhes.
- (D) o Brasil consolida sua democracia a partir dos anos de 1964.
- (E) o mundo entra na fase das guerras regionais com a multipolarização.

55. Sobre a transição de outros métodos de produção para a fase da acumulação flexível, pode-se dizer que:

- (A) materializou-se por conta da falência de métodos produtivos, a exemplo, do *just in time*.
- (B) foi feita em partes por meio de novas formas organizacionais e tecnológicas de produção.
- (C) correspondeu à substituição do fordismo pelo método cartesiano.
- (D) surgiu como afirmação da concentração dos setores produtivos para os países ricos.
- (E) configurou um movimento de ampliação dos mercados a partir da organização rígida da produção.

56. Dentre as ideias de Thomas Robert Malthus sobre as dinâmicas populacionais, pode-se dizer que:

- (A) o desenvolvimento tecnológico fará com que a produção de alimentos garanta a sustentação do crescimento populacional.
- (B) a população cresce em progressão aritmética, porém a industrialização e formação de cidades incidem nas taxas de natalidade.
- (C) o crescimento vegetativo da população é expressivo em função da grande disponibilidade de alimentos produzidos e comercializados.
- (D) o planeta ficaria superpopuloso e a fome se alastraria nas cidades mais industrializadas.
- (E) existe uma tendência universal de a população crescer em progressão geométrica, e a produção de alimentos em progressão aritmética.

57. Sobre os movimentos sociais e o espaço agrário no Brasil, pode-se dizer que:

- (A) o Movimento dos Trabalhadores Rurais Sem Terra é o movimento social de luta pela terra mais organizado e articulado no território.
- (B) a União Democrática Ruralista tem como um de seus princípios fundamentais a defesa de uma ampla reforma agrária.
- (C) o movimento indígena tem feito uma grande mobilização nacional contra a construção de hidrelétricas e demarcação de terras.
- (D) o movimento dos seringueiros foi criado para reivindicar que as terras dos antigos seringueiros fossem disponibilizadas para criação de gado.
- (E) o movimento dos camponeses está negociando com o Estado a liberação da grilagem de terras no Centro-Oeste.

58. Sobre o mandonismo e a organização oligárquica na Região Nordeste do Brasil, pode-se dizer que:

- (A) é a expressão máxima do poder político materializada nas regiões metropolitanas do Nordeste.
- (B) é um tipo de coronelismo presente nas forças militares de segurança a serviço do Estado.
- (C) são formas de ação política bem familiares ao exercício do poder, sobretudo, no Sertão nordestino.
- (D) é uma organização regional estruturada no poder político do Estado e na fundação de mudanças estruturais no Nordeste.
- (E) são políticas regionais e locais focadas na modernização da base produtiva e na desconcentração das terras no Nordeste.

59. Sobre os diversos aspectos do funcionamento do clima, pode-se dizer que:

- (A) as correntes marítimas tem baixa capacidade de interferir nas dinâmicas do clima global.
- (B) a filtragem da radiação ultravioleta contribui para desequilibrar a biosfera.
- (C) sem a interferência humana o clima ficaria estável no planeta.
- (D) o clima de monção ocupa uma área importante das altas latitudes aparecendo em torno do Oceano Índico.
- (E) as formas do relevo e a distribuição das terras e águas complementam a caracterização da diversidade climática do planeta nas escalas menores.

60. Com relação à nova divisão internacional do trabalho, pode-se dizer que:

- (A) retrata o aprofundamento da divisão internacional entre países produtores de bens industrializados e países unicamente produtores de matérias primas.
- (B) é o processo atual de nivelamento tecnológico entre os países.
- (C) reflete o processo de mundialização da economia capitalista o que ocasionou uma descentralização das atividades produtivas.
- (D) se materializa na fusão de bolsas de valores para facilitar o financiamento do desenvolvimento regional no planeta.
- (E) marca um período de espacialização do capital no mundo mediante a adoção de prática produtiva sustentável.

61. Com relação à rede urbana no Brasil, pode-se dizer que:

- (A) constitui-se no conjunto de centros urbanos funcionalmente articulados entre si.
- (B) constitui-se em um conjunto de cidades interligadas por vias de fluxos, porém sem articulação socioespacial.
- (C) constitui-se em um conjunto de ações governamentais voltadas para o desenvolvimento de centros urbanos.
- (D) constitui-se em um espaço urbano contínuo e articulado prioritariamente com a produção agrícola de exportação.
- (E) constitui-se em uma dimensão espacial integrada por espaços rurais tecnificados.

62. Sobre a Metrópole Moderna, pode-se dizer que:

- (A) é formada por baixa densidade de fluxos e atividades comerciais.
- (B) constitui-se em importante local de acumulação de capital e de reprodução da força de trabalho.
- (C) materializa-se a partir da formação de novas regiões metropolitanas em áreas interiores.
- (D) reflete a formação e concentração das chamadas cidades do agronegócio.
- (E) potencializa a organização de ações governamentais voltadas para o desenvolvimento local a partir de novas cidades.

63. Com relação ao Fundo Monetário Internacional e o Banco Mundial, pode-se dizer que:

- (A) são organismos supranacionais criados entre a primeira e o início da segunda guerra mundial.
- (B) são oriundos do tratado de *Bretton Woods* e voltados para o financiamento de tecnologias sociais e microempresas.
- (C) formam uma organização internacional focada no controle e gestão do fluxo mundial das atividades comerciais.
- (D) são grandes instituições financeiras voltadas para o financiamento, cooperação monetária e articulação de interesses do capital.
- (E) são agentes econômicos de regulação e controle do processo de expansão mundial do capital financeiro.

64. Com relação aos blocos econômicos no mundo, pode-se dizer que:

- (A) é formado por um conjunto de empresas que se organizam para trocar produtos e tecnologias.
- (B) surgiu a partir da metade do século XIX a partir do estabelecimento de uma política imperialista pelas potências mundiais.
- (C) é uma regionalização econômica do espaço mundial criada como estratégia de garantir uma reorganização socioambiental igualitária do mercado.
- (D) é formado por um conjunto de governos com características próprias e interesses comerciais e sociais divergentes.
- (E) é resultado da segmentação do espaço econômico mundial em virtude da mundialização da economia capitalista.

65. Sobre as redes técnicas, pode-se dizer que:

- (A) são estruturas que conectam todas as partes do planeta de forma igualitária no contexto da globalização.
- (B) possibilitam a emancipação social uma vez que todos têm acesso de forma equânime.
- (C) a criação da internet foi fruto de uma fusão singular de estratégia militar, grande cooperação científica, iniciativa tecnológica e outras inovações.
- (D) gerou a integração dos mercados, a livre circulação de mercadorias e trabalhadores.
- (E) facilita a mundialização da economia por meio da concentração das atividades produtivas em poucos países desenvolvidos.

66. Com relação às interações sociospaciais e as redes sociais, pode-se dizer que:

- (A) as redes sociais não são capazes de gerar relações sociais sustentáveis e de interferir em dinâmicas do espaço.
- (B) as interações espaciais via sistema de redes técnicas só foram possíveis a partir das redes sociais do século XXI.
- (C) as transformações sociospaciais estão exclusivamente dependentes da utilização massiva da rede mundial de computadores.
- (D) a globalização tem as redes sociais como uma de suas bases gerais de sustentação, principalmente na produção de mercadorias.
- (E) as comunidades virtuais não são comunidades físicas, porém não são irreais, são redes interpessoais capazes de gerar reciprocidade social.

67. Sobre as transformações espaciais no Leste Europeu pós década de 1980, pode-se dizer que:

- (A) a União Soviética passou por uma série de reformas a exemplo da implantação da Perestroika e criação da Comunidade dos Estados Independentes (CEI).
- (B) houve a queda do Muro de Berlim e o processo de consolidação da divisão territorial da Alemanha.
- (C) implantou-se a Glasnost e a Federação Russa entrou em conflito bélico com a Ucrânia.
- (D) houve uma ampla expansão do socialismo e a consolidação do poder espacial da União Soviética.
- (E) houve anexação das repúblicas bálticas (Lituânia, Letônia e Estônia) ao território da Federação Russa.

68. Sobre o espaço urbanizado, pode-se dizer que:

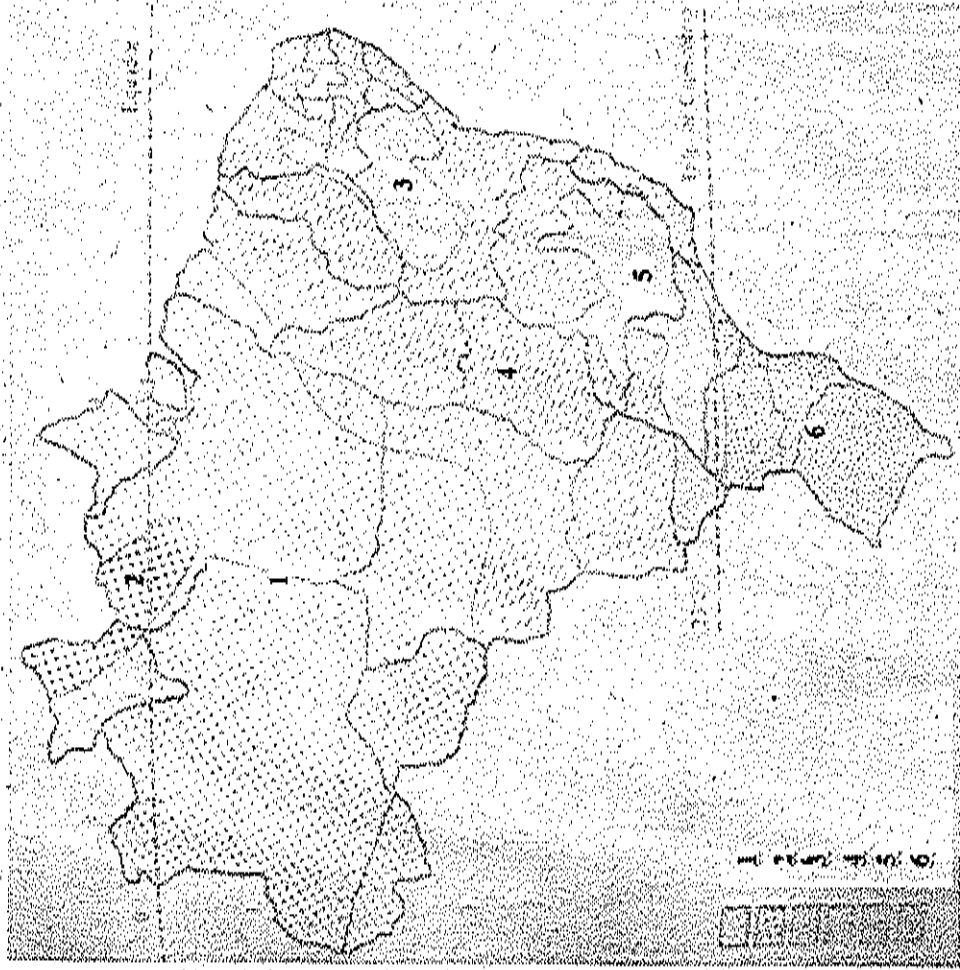
- (A) configura uma área onde impera as dinâmicas agrícolas.
- (B) constitui relações de poder em locais de baixa densidade de fluxos.
- (C) possui grande capacidade de produção tecnológica e baixa capacidade de produção industrial.
- (D) concentra as relações socioespaciais focalizadas em atividade não capitalistas.
- (E) representa o espaço social por excelência.

69. Sobre a formação de trustes e cartéis no final do século XIX, pode-se dizer que:

- (A) representou um momento histórico de produção descentralizada de produtos ilícitos para o mercado.
- (B) foi uma estratégia de organização do mercado sobre o controle do Estado.
- (C) foi um modelo ancorado na organização produtiva dos trabalhadores nas fábricas.
- (D) foi uma onda de fusões e aquisições fundadas em uma organização corporativa de controle do processo produtivo e do mercado.
- (E) habilitou a existência de um modelo econômico fundamentado na ampla concorrência.

Útilize a figura abaixo para responder ao item 70.

Brasil: tipos de Clima



70. Assinale a alternativa que apresenta a correta associação entre o tipo de clima, seu respectivo domínio e suas características naturais e geográficas.

- (A) Em 1 e 2 a influência da massa polar, embora rara, alcança os trechos mais orientais pelo corredor de terras baixas da depressão paraguaia, resultando numa paisagem savânica propícia ao cultivo de arroz de sequeiro.
- (B) A paisagem de 3 tem as características climáticas retratadas pela vegetação xerofítica, pelo escoamento hidrográfico intermitente, por solos pedregosos e a presença de formas agressivas como os *inselbergs*.
- (C) As atividades agrícolas desenvolvidas em 4 são caracterizadas, majoritariamente, pela prática da agricultura de precisão em culturas permanentes tais como: soja, cana-de-açúcar e café.
- (D) No tipo climático de 5 as médias anuais caem para menos de 18°C e a pluviosidade se acentua, determinando a concentração das chuvas no inverno, o que caracteriza esse domínio.
- (E) O domínio próprio do clima 6 caracteriza-se pela atuação vigorosa das massas equatorial continental e tropical continental, enquanto a tropical atlântica e a polar exercem uma ação periférica.

FINAL DA PROVA

